


SCHAKEN

met Arno Henzen


Deze week weer 'ns een aantal partijfragmenten popelend om te worden opgelost. De eerste opgave is als binnenkomertje gedacht, met een bekend thema dat toch tot de verbeelding blijft spreken. De 2e opgave zal uw tactische slagvaardigheid in het eindspel testen. De 3e opgave ten slotte valt onder de categorie brutale overrompeling van de zwarte koningsveste.

14-10-1988




Bovenstaand diagram is afkomstig uit de interne competitie van Voerendaal van een partij tussen S. Gerits en A. Stoelhorst. Een interessante stelling waarbij beide koningen op de tocht staan. Vervelend voor zwart is de penning van de f7-toren. Zwart is echter aan zet en kan reeds de witspeler met een petite combinaison tot opgave dwingen. Hoe? De oplossing kunt u aan het einde van deze rubriek vinden.

Het tweede diagram geeft de stelling weer na de 55e zet van wit uit een partij tussen G. Hahn (Hoensbroek ME II) en B. Merx (Voerendaal I). Materiaal gezien staat 't ongeveer gelijk. Belangrijke positionele kenmerken zijn de ver opgerukte witte vrij-pion en de preciaire positie van de witte toren. In de partij volgde: 55. ...Ld8?? 56.



Kd5, Kg8 57. Ke6?, Pe5 (57. ...K:H7 58. K:f7 gevolgd door de opmars van de e-pion) **58. Te7?** en zwart gaf op, bijv. 58. ...L:e7 59. K:e7 en weer wint de opmars van de e-pion. Vanuit de diagramstelling heeft zwart echter beter; kan hij echter ook winnen?

't Laatste partijfragment is afkomstig uit een partij tussen R. Merx (Voerendaal) en H. Acampo (D.J.Z.). Hoe kan wit die aan zet is snel en fraai winnen?



Oplossing: 1. ...Dc6+!! 2. D:c6, T:f1+ 3. T:f1, T:f1+ 4. Kg2, Tg1 mat.