


ort

schaken

met arno henzen

Deze week zullen een drietal opgaves u op een hopelijk plezierige manier aan het denkwerk zetten.




①


Bovenstaand diagram geeft de stelling weer na de 44e zet van wit uit een partij tussen M. Winkels en A. Henzen. Zwart heeft drie pionnen meer en ondanks de wat vreemde stand van de zwarte koning, staat deze toch vrij veilig. De zwartspeler dacht nu met 44. ...Tf1 de witspeler tot opgeven te bewegen. Deze had echter andere plannen. Wat had zwart overzien?

Het tweede diagram geeft de stelling weer na de 19e zet van wit uit een partij tussen H. Temmink (SVS) en Hellsloot (Amstelveen). De zwartspeler gebruikte steeds veel tijd voor zijn zetten zonder overigens goed te spelen. Integendeel, wit won op eenvoudige manier een kwaliteit. Toch had de zwarte „strategie” een pointe, namelijk het in slaap sussen van de tegenstander. Waarom was de laatste zet van wit, 19Dxf4 niet goed?3

Het laatste diagram tenslotte is afkomstig van een partij tussen R. Randsch en Y. Mengerink en geeft de stelling weer na de 21e zet van zwart. Op een originele manier heeft zwart



②



③

ervoor gezorgd dat zijn stukken optimaal staan voor een overrompeling van de witte koning. Niettemin staat hij een kwaliteit en drie pionnen achter. Wit kan dus wel wat materiaal teruggeven om de zwarte aanval af te slaan. Wat weegt zwaarder de aanvalskansen van zwart of het materiële overwicht van wit.

Oplossing 1e opgave: wit kan remise maken met 45. Dg5+!, Dxd5 46. Txd5+. Neemt zwart de toren is het pat en 46. ..Kh6 47. Tg6+.