


schaken


27-01-1990 met arno henzen

Deze week zijn er weer 'ns een aantal opgaven aan de beurt. Bij alle vier de opgaven zijn er duidelijke taktische motieven en de eerste twee zullen u dan waarschijnlijk ook weinig problemen opleveren. De laatste twee zijn moeilijker en vereisen het nodige rekenwerk.

De oplossing van de eerste twee opgaven kunt u onderaan de rubriek vinden.




Het eerste diagram geeft de stelling weer na de 25e zet van wit uit een partij Thijssen (Venlo II) en M. Graff (DJC I). Met welke kleine combinatie weet zwart materiaal te winnen.




Het tweede diagram geeft de stelling weer na de 16e zet van wit uit een partij

tussen H. Janssen (Blerick I) en A. Henzen (SVS I). Waarom kan zwart de aanval op z'n dame negeren?



Stelling na de 22e zet van wit uit een partij tussen P. Evers (DJC 3) en R. Camps (Voerendaal 2). Het kwaliteits-offer op e3 ligt voor de hand. Is 't echter ook correct?



Het vierde diagram tenslotte geeft de stelling weer na de 19e zet van wit uit een partij tussen Penson en R. Caesens. Met welke fraaie combinatie weet de zwartspeler 't snel uit te maken.

I:25...T:d4! 26L:d4,L:f4+ gevolgd door L:c1
II:16...L:g2! 17a:b6?Pf3+ 18K:g2,Pe1+ 19Kf1,P:c2 en zwart wint de kwaliteit.