


port

SCHAKEN


met Arno Henzen

Deze week weer 'ns een aantal opgaven, waarvan u de oplossing van de eerste opgave onderaan deze rubriek kunt vinden. Bij alle drie de partijfragmenten ligt de nadruk op (enig) tactisch vernuft.




Bovenstaand diagram geeft de stelling weer na de 10e zet van zwart, uit een partij tussen A. Janssen en v.d. Zee. Een Spaanse afriuilvariant wordt door zwart onnauwkeurig gespeeld. Z'n laatste zet 10... g5? maakt reeds een directe winst voor wit mogelijk. Hoe?

Het tweede partijfragment is afkomstig uit de Maastrichter schaaknacht (VSM). Een toernooi voor nachtuilen, studenten en dergelijke.



Het tweede diagram geeft de stelling weer na de 17e zet van wit, uit een partij tussen F. Hermans en T. Bus. Met 17Td3 laat wit het paard op g5 instaan ten behoeve van de aanval. Ook de zwartspeler neemt dit geschenk niet aan. 2. vragen. Kan zwart op g5 nemen? Moet hij eerst 17...h:g5 spelen of 17...L:g5?

De laatste opgave is afkomstig uit de 2e ronde van de Lisb-k.o.-bekercompetitie, uit een wedstrijd tussen Venlo II en SVS II. Uit een partij tussen R. v. Tienhoven en H. Borghouts.



Een prachtige onoverzichtelijke stelling. Wit staat een kwaliteit voor. Beide partijen bezitten een vrijpion die op 't punt van promoveren staat. De zwarte vrijpion is voorlopig echter goed geblokkeerd. De promotie van de witte vrijpion is daarentegen niet meer te verhinderen. De enige kans van zwart bestond daarom in proberen de blokkade van z'n vrijpion op te heffen. Hij speelde daarom 1...Tal. Wie heeft in het verdere vrijwel geforceerde verloop de beste kansen?

Oplossing 1e opgave: 11P:e5 (dreigt Dh5+ en mat) 11...d:e5 12Dh5+, Kd7 13Tad1+, Ke6 (opgeven was de beste zet geweest) 14T:d8,g:h4 15f4, Lg7 16Dg4+, Kf7 17f:e5+, Pf5 18T:f5, L:f5 19Df5+, Ke7 20Dd7 mat.